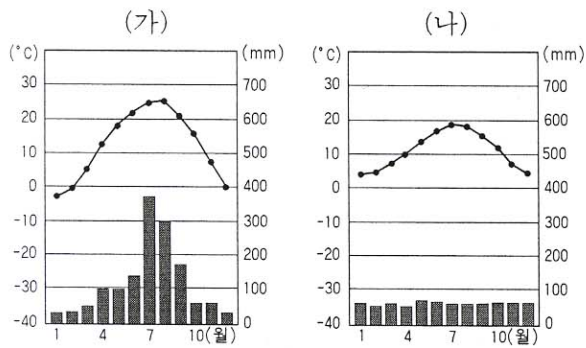


선택과목

세계지리

71. (가) 기후 지역의 'geomo' 와 (나) 기후 지역의 'climo' 라는 ID를 가진 학생이 인터넷을 통해 나눈 대화이다. 옳은 내용을 <보기>에서 모두 고른 것은? [2점]

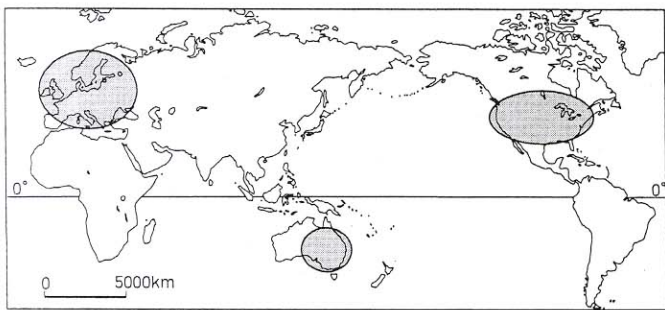


<보기>

- ㄱ. geomo : 여기는 여름에 덥고 비가 많이 내리지만 겨울은 그 반대야.
- ㄴ. climo : 그렇구나. 이곳은 일년 내내 맑은 날씨가 많아서 좋아. 그런데, 그곳에선 어떤 농사를 짓니?
- ㄷ. geomo : 여기는 초콜릿의 원료인 카카오를 많이 심어.
- ㄹ. climo : 그래? 이곳에는 젓소를 키워 우유와 버터를 생산하는 농민들이 많은데…….

- ① ㄱ, ㄴ                      ② ㄱ, ㄹ                      ③ ㄴ, ㄷ
- ④ ㄴ, ㄹ                      ⑤ ㄷ, ㄹ

72. 지도의 ○ 표시한 지역에서 공통으로 나타나는 문화적 특성을 <보기>에서 모두 고른 것은?

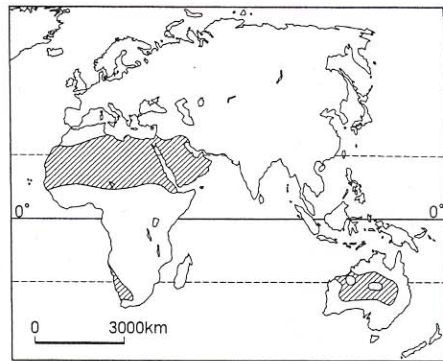


<보기>

- ㄱ. 코카서스 인종의 비율이 높다.
- ㄴ. 그리스도교 신자의 비율이 높다.
- ㄷ. 대가족 중심의 가족 제도가 보편적이다.
- ㄹ. 대부분의 국가들이 영어를 공용어로 사용한다.

- ① ㄱ, ㄴ                      ② ㄱ, ㄹ                      ③ ㄴ, ㄷ
- ④ ㄴ, ㄹ                      ⑤ ㄷ, ㄹ

73. 지도의 빗금 친 지역에서 주로 볼 수 있는 지형의 형성 과정으로 옳은 것은?



- ① 화산이 폭발하여 용암, 화산재 등이 분출한다.
- ② 암석이 빗물에 녹아 움푹 들어간 땅을 만든다.
- ③ 강한 바람에 의해 모래가 이동하여 언덕을 이룬다.
- ④ 유량이 풍부한 하천이 측방 침식을 활발히 하면서 곡류한다.
- ⑤ 빙하에 의해 운반된 다양한 크기의 돌과 흙이 뒤섞여 퇴적된다.

74. 다음 표를 통해 추론할 수 있는 기후 현상으로 적합한 것은? [2점]

육지	바다
○ 땅은 빨리 데워지고 빨리 식는다.	○ 물은 천천히 데워지고 천천히 식는다.
○ 지표면과 지하 사이의 열 교환이 적다.	○ 해수의 상층과 하층 사이의 열 교환이 많다.
○ 지표면에서 증발량이 적다.	○ 해수면에서 증발량이 많다.

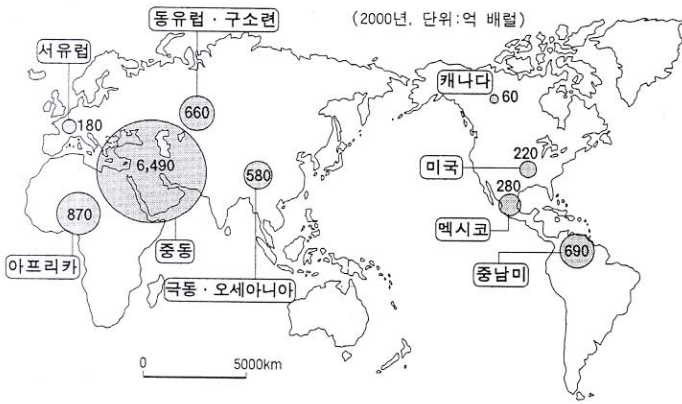
- ① 적도 부근은 일년 내내 기온이 높다.
- ② 해발 고도가 높아지면 기온은 낮아진다.
- ③ 내륙 지역이 해안 지역에 비해 연교차가 크다.
- ④ 바다로부터 거리가 멀어질수록 비가 많이 내린다.
- ⑤ 바람은 여름에는 육지에서 바다로, 겨울에는 그 반대로 분다.

75. 세계의 어느 지역을 여행한 후 쓴 글이다. 이를 통해 알 수 있는 이 지역의 특색으로 옳은 것은? [2점]

라사에서 장쑤로 가는 길은 점차 고도가 높아지는데, 광막한 들과 아무것도 자라지 않는 갈색 산이 파도처럼 이어질 뿐이다. 도로 양편에는 흙벽돌로 만든 전봇대가 늘어서 있어 특이하다.  
비할 데 없이 광활하고 거친 고원에도 봄은 오고 있었다. 물 흐르는 작은 시내와 있고, 야크가 쟁기질을 하고 있는 경작지가 나오면 어김없이 마을이 보인다. 농가는 벽을 희게 칠한 단층으로 지붕은 경사가 없이 평평하다. 벽에는 야크 똥을 붙여 놓았는데, 야크 똥은 거의 유일한 월동 연료라고 한다.

- ① 주민들의 주식은 쌀이다.
- ② 연중 온화하여 휴양지로 적합하다.
- ③ 하천의 범람으로 침수되는 경지가 많다.
- ④ 주민들은 얇고 헐렁한 옷을 주로 입는다.
- ⑤ 건축 재료로 목재보다는 흙을 많이 사용한다.

76. 어떤 자원의 지역별 생산량을 나타낸 지도이다. 이 자원과 관련된 설명으로 옳은 것을 <보기>에서 모두 고른 것은?

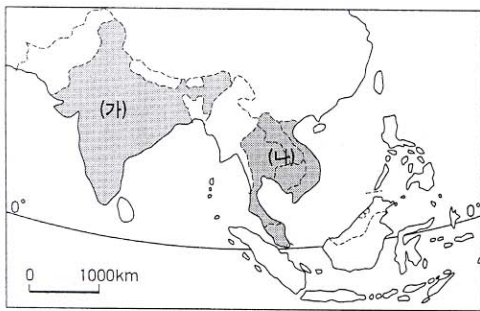


<보기>

- ㄱ. 18C 산업 혁명의 원동력이 되었다.
- ㄴ. 현재 세계 에너지 자원의 핵심이다.
- ㄷ. 이 자원을 둘러싼 분쟁이 자주 발생한다.
- ㄹ. 오염 물질의 배출이 많아서 사용량이 해마다 감소한다.

- ① ㄱ, ㄴ                      ② ㄱ, ㄷ                      ③ ㄱ, ㄹ
- ④ ㄴ, ㄷ                      ⑤ ㄷ, ㄹ

[77~78] 동남 및 남부 아시아의 지도를 보고, 물음에 답하시오.



77. (가) 국가의 문제점으로 옳지 않은 것은? [2점]

- ① 인구가 많고 출생률이 높다.
- ② 교육 기회가 적어 문맹률이 높다.
- ③ 정보 기술 관련 인력이 부족하다.
- ④ 이질적인 종교로 인한 지역 갈등이 있다.
- ⑤ 신분 제도와 같은 전근대적 관습이 남아 있다.

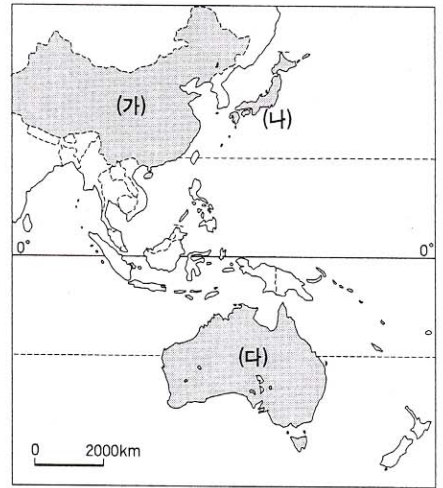
78. (나) 지역의 공통적인 특색을 알아보기에 적절한 탐구 주제를 <보기>에서 모두 고른 것은?

<보기>

- ㄱ. 기업적 곡물 농업의 발달 배경
- ㄴ. 인구 증가와 개발에 따른 열대림의 파괴 과정
- ㄷ. 주민 중 화교가 차지하는 비율과 화교의 영향력
- ㄹ. 사이클론으로 인한 자연 재해가 경제에 미치는 영향

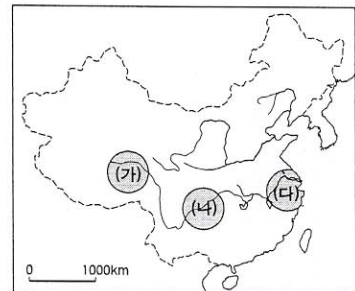
- ① ㄱ, ㄴ                      ② ㄱ, ㄷ                      ③ ㄴ, ㄷ
- ④ ㄴ, ㄹ                      ⑤ ㄷ, ㄹ

79. 지도에 표시된 (가)~(다) 국가와 관련된 설명으로 옳은 것은? [2점]



- ① (가)는 (나)로의 이민을 장려하고 있다.
- ② (나)는 태평양 연안 지역에 인구가 밀집되어 있다.
- ③ (나)는 (다)보다 자원의 국내 자급도가 높다.
- ④ (다)는 지각판의 경계에 위치하여 화산이 많이 분포한다.
- ⑤ (다)는 (가)의 저렴한 노동력을 바탕으로 공업이 발달하고 있다.

80. 중국 양쯔강 유역의 (가)~(다) 지역에 대한 설명으로 옳은 것은?



- ① (가)는 (다)보다 인구 밀도가 높다.
- ② (나)는 (다)보다 해발 고도가 낮다.
- ③ (나)는 강수량이 적어 밀이 많이 재배된다.
- ④ (다)는 (가)보다 목축업이 활발하게 이루어진다.
- ⑤ (다)는 급속한 공업화로 환경 오염이 심화되고 있다.

\* 확인 사항

○ 답안지의 해당란에 필요한 내용을 정확히 기입(표기)했는지 확인한 후 답안지를 제출하시오.